

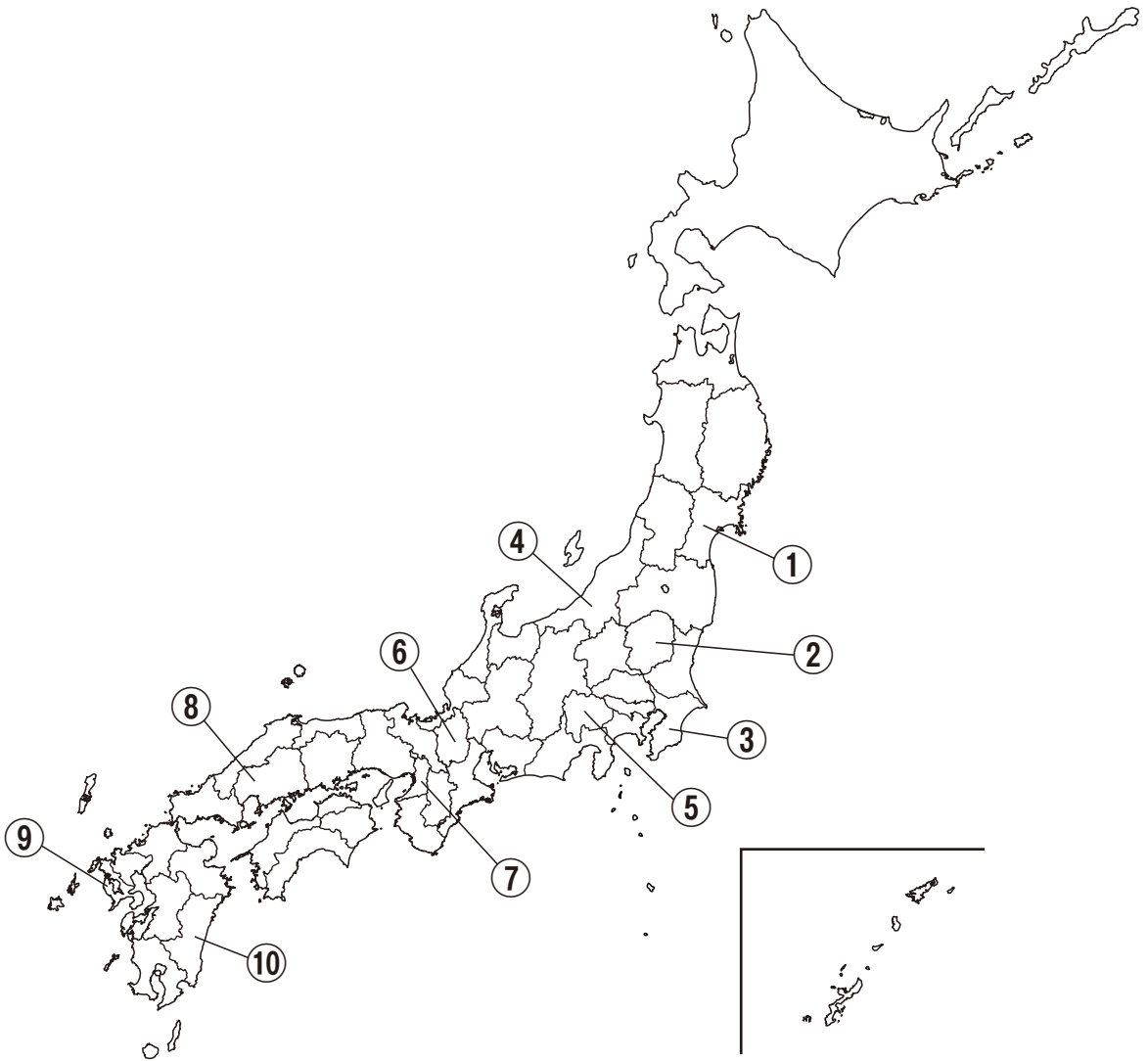
カリタス女子中学校 第4回入学試験
2024年2月3日

社 会 問 題

(30分)

*答えはすべて解答用紙に記入すること。

I 次の地図を見て、以下の各問いに答えなさい。



問1 次のA・Bにあてはまる都道府県を地図中の①～⑩からそれぞれ選び、番号とその都道府県の名を答えなさい。都道府県の名は漢字で答えること。

- A 日本で一番大きい湖がある。
- B 日本で一番長い川の河口がある。

問2 次のC・Dにあてはまる都道府県を地図中の①～⑩からそれぞれ選び、番号とその都道府県庁所在地の名を答えなさい。所在地の名は漢字で答えること。

C ブドウの収穫量しゅうかくりょうが全国1位（2022年度）である。

D イチゴの収穫量が全国1位（2022年度）である。

問3 都道府県①には、人口100万人をこえる東北地方最大の都市があります。そこでは、毎年8月に東北地方を代表する祭りの1つがかいさい開催され、昨年（2023年）は約227万人が来場しました。この祭りのようすを、次のア～エから1つ選び、その記号を答えなさい。

ア



イ



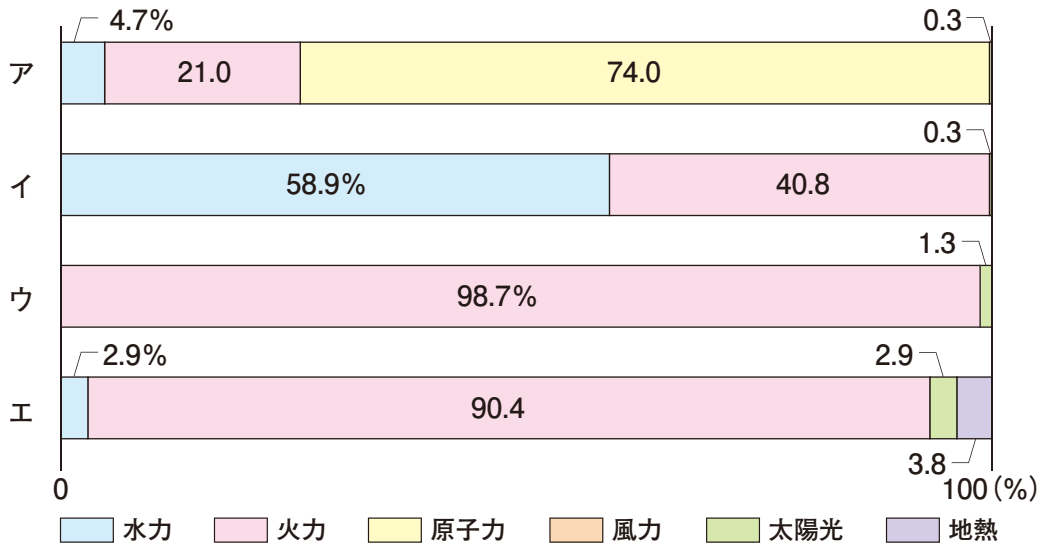
ウ



エ

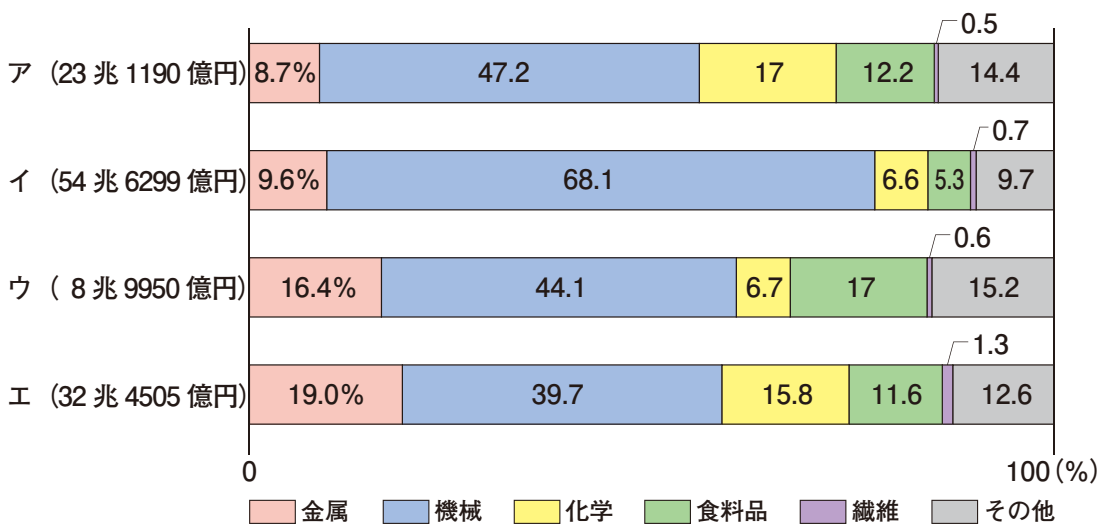


問4 次のグラフは、2022年度の4つの都道府県の発電総量に対するエネルギー源ごとの割合を表したものです。都道府県③のグラフを、ア～エから1つ選び、その記号を答えなさい。



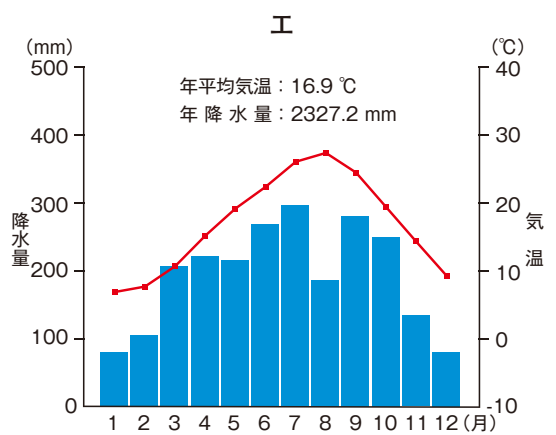
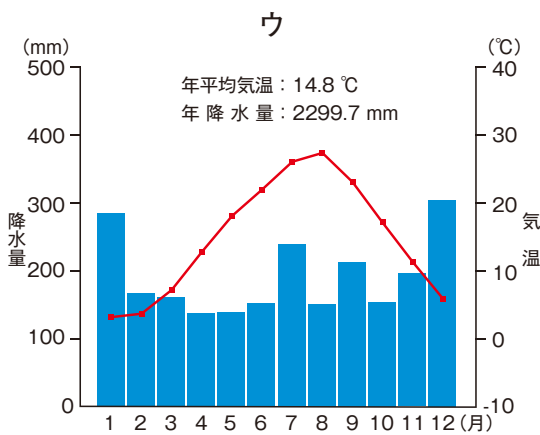
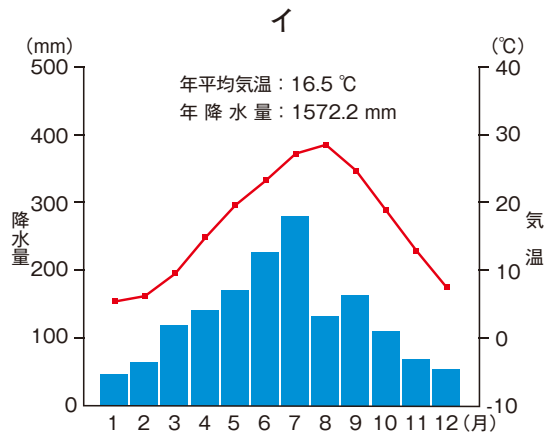
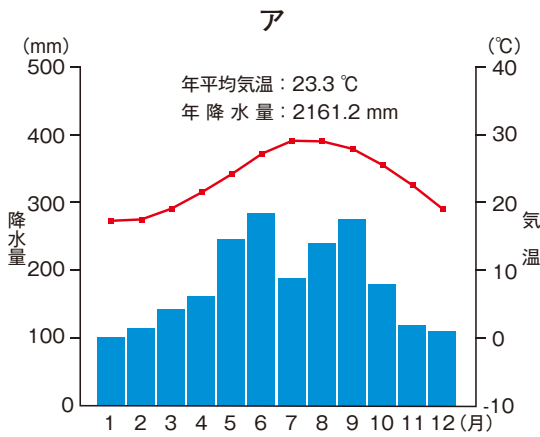
〔資源エネルギー庁「電力調査統計」より作成〕

問5 都道府県⑦は、日本有数の工業出荷額をほこる「阪神工業地帯」の一部です。次のグラフは、「北九州」「阪神」「中京」「京浜」の各工業地帯の2020年の工業出荷額の内訳を表したものです。「阪神工業地帯」のグラフを、ア～エから1つ選び、その記号を答えなさい。



〔『日本国勢図会 2023/24』より作成〕

問6 次のア～エは、「沖縄県」「福井県」「静岡県」「都道府県⑧」の都道府県庁所在地の雨温図です。「都道府県⑧」の都道府県庁所在地の雨温図を、ア～エから1つ選び、その記号を答えなさい。



〔『理科年表2023』より作成〕

問7 日本の周りには、「暖流」と「寒流」が流れています。表1は、それぞれの海流に多く生息する魚の種類をまとめたものです。また、表2は、「高知県」「岩手県」「秋田県」「都道府県⑨」の2020年の漁獲量ぎょかくりょうの多い魚種の上位3位までをまとめたものです。表1を参考にして、都道府県⑨を示すものを表2のア～エから1つ選び、その記号を答えなさい。

表1

	多く生息する魚の種類
暖流	マグロ・カツオ・サバ・アジ・イワシ
寒流	サケ・マス・タラ・サンマ

表2

	ア	イ	ウ	エ
1位	サバ	マグロ・カジキ	イワシ	タラ
2位	イワシ	カツオ	サバ	ブリ
3位	タラ	サバ	アジ	ホッケ

〔各都道府県のウェブサイトより作成〕

問8 日本全国には、地域おこしを目的とした「ゆるキャラ」が数多くいます。都道府県⑩の「ゆるキャラ」を次のア～エから1つ選び、その記号を答えなさい。

ア



イ



ウ



エ



Ⅱ 下の図は、刈田寿愛さんの家の周辺の地図です。地図を見て、以下の各問いに答えなさい。



※地図中の●79は、標高79mを示しています。

問1 地図中に見られる、次の地図記号A・Bは何を示していますか。



問2 地図中には、地図記号で置きかえられる施設があと1つあります。その施設の名と地図記号を答えなさい。

問3 愛さんは、放課後に友達かみのめぐみの神野 恵さんの家に遊びに行くことにしました。愛さんがその日の夜に書いた日記中の下線部①～④が、正しければ○を、誤っていれば×をそれぞれ答えなさい。

今日は学校が終わったら、恵さんの家で遊ぼうとさそってもらいました。小学校からの帰り道だと、①自分の家より恵さんの家の方が近いけど、一度家に帰ってお母さんに伝えてから、遊びに行くことにしました。

お母さんに話すと、スーパーでおやつを買っていきなさいとおこづかいをくれたので、うれしかったです。川ぞいの道を歩いていると、②川は私が歩いているのと逆の方向に流れていました。

スーパーを出て、③東に向かって歩いていくと、恵さんの家が見えてきて、恵さんが家の前で待っていてくれました。家でおやつを食べたあと、近くの公園でかくれんぼをして遊びました。上手にかくれたつもりだったけど、④自分のかげが花屋さんの前にのびていて見つかってしまいました。それに気づいた恵さんはすごいなあ。公園の時計が5時になって辺りも暗くなってきたので、家に帰りました。楽しい一日だったなあ。

問4 愛さんは、お父さんと地図を見ながら話し合いました。次の会話文を読んで、(⑤)
～ (⑦) にあてはまる経路を、地図中のア～エから1つずつ選び、その記号を答
えなさい。

愛さん : 最近は、以前よりも雨が激しく降ったり、地震がたくさん起きている気
がするね。

お父さん : 日本では毎年のようにたくさんの災害が起きているから、普段から備え
ておくことが大切だよ。例えば、災害が起きたときに避難所へ避難する
ことを考えて、避難所の場所や行き方をあらかじめ調べておくことが必
要だね。

愛さん : うちの近くには、避難できそうな場所が3つあるね。集会所と、公園と、
小学校が指定されているみたい。どこに逃げたらいいの？

お父さん : 基本的には近くの避難所に避難したらいいけど、状況に応じて、行き方
や場所を変えたらいいんだよ。途中で危険な目にあうとよくないからね。
例えば、雨がたくさん降ったら、洪水の危険があるから (⑤) の経
路は選ばない方がいいね。

愛さん : 地震が来たときには、周りに高い建物や山がない方がいいから、(⑥)
の経路がいいかなあ。

お父さん : もし津波が来たときには、高いところにある集会所に逃げるのがよさそ
うだね。

愛さん : 避難するときには、となりの家の一人暮らしのおばあちゃんが心配だわ。
いっしょに逃げられるかな？

お父さん : おばあちゃんは足が悪くて車いすに乗っているから、押してあげていっ
しょに逃げよう。集会所までは (⑦) の経路がよさそうだね。

Ⅲ は次のページから始まります

Ⅲ 一昨年（2022年）の10月、ある保険会社が日本全国の20歳から59歳までの男女に対して「47都道府県別 生活意識調査」を実施し、各都道府県100名ずつ、合わせて4700名分のアンケートの集計結果を公開しました。その中に「自分の県を代表すると思う歴史上の人物」を自由に回答してもらう項目があり、各都道府県に住む人たちの回答で1位になった人物は、以下のとおりでした。この結果を見て、以下の各問いに答えなさい。なお、作問の都合により、都道府県の名をひらがなで記し、「都」「府」「県」を省略しています。

ほっかいどう	あおもり	いわて	みやぎ	あきた	やまがた	ふくしま
《 A 》	太宰治	宮沢賢治	(①)	小野小町	(②)	野口英世

いばらき	とちぎ	ぐんま	さいたま	ちば	とうきょう	かながわ
徳川光圀	《 B 》	新田義貞	洪沢栄一	伊能忠敬	《 B 》	【 あ 】

にいがた	とやま	いしかわ	ふくい	やまなし	ながの
(②)	佐々成政	前田利家	橋本左内	(③)	真田幸村

ぎふ	しずおか	あいち	みえ
織田信長	《 B 》	織田信長	松尾芭蕉

しが	きょうと	おおさか	ひょうご	なら	わかやま
織田信長	《 C 》	豊臣秀吉	《 D 》	聖徳太子	徳川吉宗

とっとり	しまね	おかやま	ひろしま	やまぐち
毛利貞元ほか	小泉八雲	犬養毅	(④)	吉田松陰

とくしま	かがわ	えひめ	こうち	おきなわ
三好長慶	《 E 》	正岡子規	坂本龍馬	尚巴志王

ふくおか	さが	ながさき	くまもと	おおいた	みやざき	かごしま
黒田官兵衛	大隈重信	坂本龍馬	加藤清正	福沢諭吉	若山牧水	西郷隆盛

問1 「ほっかいどう」で1位になった《 A 》は、日本の政府に招かれて1876年来日し、若者たちに植物学やキリスト教などを教え、翌年帰国したアメリカ人です。この人物の名を答えなさい。

問2 「いわて」で1位になった「宮沢賢治」、「あきた」で1位になった「小野小町」、「みえ」で1位になった「松尾芭蕉」、「えひめ」で1位になった「正岡子規」の作品を、次のア～カからそれぞれ選び、その記号を答えなさい。

ア 古池や 蛙 飛こむ 水のをと

イ 柿くへば 鐘が鳴るなり 法隆寺

ウ 此世をば 我世とぞ思ふ 望月の かけたる事も 無しと思へば

エ 花の色は うつりにけりな いたずらに わが身世にふる なかめせしまに

オ 吾輩は猫である。名前はまだない。どこで生れたかはとんと見当がつかぬ。何でも薄暗いじめじめした所でニャーニャー泣いていた事だけは記憶している。

カ そして二人はその扉をあけようとしますと、上に黄いろな字でこう書いてありました。【当軒は注文の多い料理店ですからどうかそこはご承知ください。】

問3 「みやぎ」で1位になった(①)、「やまがた」と「にいがた」で1位の(②)、「やまなし」で1位の(③)、「ひろしま」で1位の(④)は、いずれもその県と関わりの深い戦国大名です。(①)～(④)にあてはまる人物を、次のア～カからそれぞれ選び、その記号を答えなさい。

ア 上杉謙信

イ 島津貴久

ウ 武田信玄

エ 伊達政宗

オ 北条氏康

カ 毛利元就

問4 「とちぎ」と「とうきょう」と「しずおか」で1位になった《 B 》にあてはまると考えられる人物の氏名を漢字で答えなさい。

問5 「織田信長」は、「ぎふ」と「あいち」と「しが」で1位になっています。では、「ぎふ」で「織田信長」が1位になったのは、なぜでしょうか。その理由として最も適切と考えられるものを、次のア～エから1つ選び、その記号を答えなさい。

ア この県に^{そうだい}壮大な安土城を新たに築いて、その城を^{きよてん}拠点としたから。

イ この県にあった^{いなばやま}稲葉山城の城主の^{たつおき}斎藤竜興を破って、その城に入ったから。

ウ この県の長篠の地で、大量の鉄砲を使って^{あざいながまさ}浅井長政・^{あさくらよしかげ}朝倉義景の連合軍を破ったから。

エ この県に生まれ、多くの戦いに勝利した戦国大名で、全国統一を達成することはできなかったが、最も^{みりょく}魅力のある戦国大名だから。

問6 「きょうと」で1位になった《 C 》は、「きょうと」の室町に「花の御所」ともよばれた^{やしき}邸を建て、のちに「きょうと」の北山に^{さんぞう}山荘を^{いとな}営んでそこに住んだ人物です。この人物の氏名を漢字で答えなさい。

問7 「ひょうご」で1位になった《 D 》は、現在の神戸港を^{しゅうちく}修築して日宋貿易をおし進め、武士から初めて太政大臣になって、のちに短期間ではあるものの現在の神戸に都をうつした人物です。この人物の姓名を漢字で答えなさい。

問8 「なら」で1位になった「聖徳太子」が直接かかわっている寺院を、次のア～エから1つ選び、その記号を答えなさい。

ア 延暦寺

イ 東大寺

ウ 法隆寺

エ 薬師寺

問9 「わかやま」で「徳川吉宗」が1位になったのは、なぜでしょうか。あなたの考えるその理由を具体的に述べなさい。

問10 「おokayama」で1位になった「犬養毅」と最も関係の深いものを、次のア～オから1つ選び、その記号を答えなさい。

- | | |
|------------|-------------|
| ア 五・一五事件 | イ 国家総動員法の制定 |
| ウ 治安維持法の制定 | エ 日中戦争のはじまり |
| オ 二・二六事件 | |

問11 《 E 》は、現在の「かがわ」に生まれ、遣唐使の船で唐にわたって密教みつきょうを学んで、帰国後は日本に真言宗を開き、和歌山県の高野山に金剛峰寺こんごうぶじを開きました。また、さまざまな分野にわたって多くの著作をのこし、平安京しよみんに庶民教育のための学校を開くなどの大活躍だいかつやくをみせた人物です。この人物の名を漢字で答えなさい。

問12 「おきなわ」で1位になった「尚巴志王しょうはし」は、15世紀の前半に「おきなわ」島を統一して国を建て、その初代の王となった人物です。この国の名を答えなさい。

問13 このアンケートの回答で1位になった人びとの中で、日本の総理大臣をつとめた人物が2人います。そのうちの1人は「おokayama」の「犬養毅」です。では、もう1人は誰ですか。その人物の氏名を記しなさい。

問14 「かながわ」で1位になった【 あ 】にあてはまると考えられる人物を、次のア～オから1人選び、その記号を答えなさい。

- | | | |
|----------|--------|--------|
| ア 大塩平八郎 | イ 菅原道真 | ウ 田中正造 |
| エ 近松門左衛門 | オ 源頼朝 | |

IV 以下の各問いに答えなさい。

問1 次のモノがつくられたのは、どの時代のことだと考えられますか。最も適切なものを、ア～エから1つ選び、その記号を答えなさい。



ア 飛鳥時代 イ 旧石器時代 ウ 古墳時代 エ 縄文時代

問2 次のア～オの出来事を、年代の古い順に正しく並べかえなさい。

- ア 韓国併合条約が結ばれる イ 第一次世界大戦
ウ 大日本帝国憲法の発布 エ ポーツマス条約が結ばれる
オ 民撰議院設立建白書が政府に提出される

問3 昨年（2023年）のちょうど50年前、1973年の出来事を、次のア～オから1つ選び、その記号を答えなさい。

- ア 第一次石油危機
イ バブル経済（バブル景気）の崩壊
ウ イギリスが香港を中華人民共和国に返還した。
エ アメリカ合衆国が沖縄の施政権を日本に返還した。
オ ソヴィエト連邦がなくなり、ロシア・ウクライナなど15か国があらわれた。

問4 次の写真が撮影されたのは、西暦の何年のことだと考えられますか。最も適切なものを、ア～オから1つ選び、その記号を答えなさい。



ア 1853年

イ 1870年

ウ 1919年

エ 1945年

オ 1970年

V 2023年の年末に、1年を振り返って、刈田寿愛さんと神野恵さんが話し合っています。その会話文を読み、以下の各問いに答えなさい。

恵さん：そういえば、最近（①）制度のことを聞かないわね。あれはどこのA省庁がおこなう制度だっけ？

愛さん：B総務省などで始めて、現在は（②）庁が担当しているはずだわ。

恵さん：政府は、何のために（①）制度をおこなってるの？

愛さん：総務省のホームページをみると、3つの目的が出ているわ。ひとつは公平・公正な社会の実現よ。C税を公平に納めてもらったり、D本当に困っている人を助けたりすることができるわ。もうひとつは行政の効率化で、書類をつくるときに、役所ごとにおこなわれていた本人確認を一本化できて、手間がはぶけるみたいよ。

恵さん：3つ目は何なの？

愛さん：3つ目は、国民の利便性の向上で、市役所や区役所が発行する証明書を、家の近所のコンビニで受け取れるようになるみたいよ。

恵さん：今年、E岸田首相が、この（①）制度について、F国会で質問に答えているところをテレビで見たわ。確か、（③）のことだったけれど、どういうことかしら。

愛さん：来年の秋に廃止される予定の（③）のことね。（①）カードに（③）の情報をまとめていくと言っていたけれど、問題が起こったので、第3の（③）ともいえる資格確認書を発行することになったみたい。

恵さん：この制度を進めることで、G自分の情報が他人に知られてしまうことを心配する声もあるわね。

愛さん：そうね。それで、いろいろなことをもう一度総点検するって言ってたわ。あれはどうなったのかしら。

問1 (①)・(②)にあてはまる語句を答えなさい。

問2 (③)にあてはまる語句を、次のア～エから1つ選び、その記号を答えなさい。

ア 運転免許証 イ 年金手帳 ウ 健康保険証 エ 土地権利書

問3 下線部Aについて、国民の健康や社会保障、労働者の生活に関する仕事をおこなっている省の名を、漢字で答えなさい。

問4 下線部Bの「総務省」の仕事について、明らかに誤って述べているものを、次のア～エから1つ選び、その記号を答えなさい。

ア 普段は火災・地震・風水害などに備え、非常時には消防活動や救護活動をおこなう消防庁に適切な指示を与える。

イ 大学・高等学校・中学校・小学校・幼稚園^{ようちえん}などの教育や、芸術・科学技術を発展させる。

ウ 政府のコンピュータのセキュリティ対策を担当し、インターネットを悪用した犯罪の防止につとめる。

エ 衆議院議員選挙や参議院議員選挙、最高裁判所裁判官の国民審査の仕事をおこなう。

問5 下線部Cの「税」について、私たちが納める税には、納める人と負担する人が同じ直接税と、納める人と負担する人がことなる間接税があります。間接税を次のア～エから1つ選び、その記号を答えなさい。

ア 所得税 イ 相続税 ウ 消費税 エ 都道府県民税

問6 下線部Dについて、社会保障制度の社会保険に含まれないものを、次のア～エから1つ選び、その記号を答えなさい。

- ア 医療^{いりょう}保険 イ 年金保険 ウ 雇用^{こよう}保険 エ 火災保険

問7 下線部Eについて、首相とは内閣総理大臣のことです。内閣の仕事として正しいものを、次のア～エから1つ選び、その記号を答えなさい。

- ア 国の予算案を審議^{しんぎ}し、予算を決める。
イ 天皇の仕事（国事行為^{こうい}）について助言と承認をおこなう。
ウ 外国と結んだ条約を承認するか決める。
エ 国の政治の進めかたを調査する。

問8 下線部Fの「国会」について、明らかに誤って述べているものを、次のア～エから1つ選び、その記号を答えなさい。

- ア 国の政治の方向を決める機関で、法律を定めることができる唯一^{ゆいいつ}の機関である。
イ 選挙で選ばれた国民の代表者である国会議員で構成され、憲法で国権の最高機関と定められている。
ウ 弾劾裁判を開いて、不適任だと訴え^{うった}られた裁判官を裁く。
エ 定められた予算や法律にもとづき、予算を使い、それに関するさまざまな仕事をおこなう。

問9 下線部Gは、新しい人権の1つの「の権利」が守られていないといえます。
に入る語句を答えなさい。

** 社会の問題はこれで終わりです。 **
**
