

カリタス女子中学校 第4回入学試験
2025年2月3日

社 会 問 題

(30分)

*答えはすべて解答用紙に記入すること。

I 各都道府県や各都市には、県民歌や市歌が決められていることがあります。県民歌や市歌について、以下の各問いに答えなさい。

問1 次の県民歌を見て、各問いに答えなさい。

「(①) 県民歌」

1. 明けゆく朝の陽に映えて むらさき匂う 吉田山
展^ひらける街に 野に山に みんな明るく 呼び交わす
ああ (①) 県は 躍進^{やくしん}の 希望にもえる ふるさとよ
2. 五十鈴^{いすず}の流れ 澄むところ 歴史に著^しるき 筆のあと
つづる真珠^{しんじゆ}の 志摩晴れて 伊賀に熊野に 風かおる
ああ (①) 県は 観光の 世界を結ぶ ふるさとよ
3. 伊勢^{いなばら}の海原 潮みちて 今建設のうたごえが
緑の風に おくられて 鈴鹿^{すずか}の山に こだまする
ああ (①) 県は 産業の 若さみなぎる ふるさとよ

「(②) 県民歌」

1. 雲白く海青し 豊かなる光に満ちて さち多し伸^のびる房総
限りなく歌はずみて とこ春のくにわが (②) 県
2. 山みどり川清し A 黒潮は父なるめぐみ 大B 利根は母なる流れ
菜の花の輝^{かがや}く大地 うるわし郷土わが (②) 県
3. 旗^{はた}たかく風はやし 人の和に力あふれて 日に進む建設の音
新しき世紀の夢の 先頭に立つわが (②) 県

1) (①)・(②) にあてはまる県名を漢字で答えなさい。

2) 下線部Aには別の名がついています。その海流名として正しいものを、次のア～エから選び、その記号を答えなさい。

ア 千島海流 イ 日本海流 ウ リマン海流 エ 対馬海流

3) 下線部Bについて正しく述べているものを、次のア～オから2つ選び、その記号を答えなさい。

- ア 日本一流域面積が広い川である。
- イ 日本一長い川である。
- ウ 坂東太郎とも呼ばれる。
- エ 四国二郎とも呼ばれる。
- オ 筑紫三郎とも呼ばれる。

問2 次の「山口県民の歌」を見て、各問いに答えなさい。

「山口県民の歌」

1. 錦帯橋きんたいきょうはうららかに (③) はさやかなり
秀麗しゅうれいの地いじんに偉人いしん出て 維新いしんの偉業いぎょう成せるかな
誇りほこと使命す忘れめや 山口県いごうの我らみな

2. 周芳穴戸すおうあなのいにしえを つぎし大内毛利おおいらが
代々よよの栄えあとの跡あととめて 伝統でんとう永ながき文化ぶんかの地
誇りほこと使命す忘れめや 山口県いごうの我らみな

3. C 二つの海に海の幸 地中の宝 山の富
世よに捧たかぐべき天然てんぜんの 資源しげんは尽つきぬふるさとの
誇りほこと使命す忘れめや 山口県いごうの我らみな

1) (③) には、カルスト地形で知られる、次の写真の場所の名が入ります。その場所の名を漢字で答えなさい。

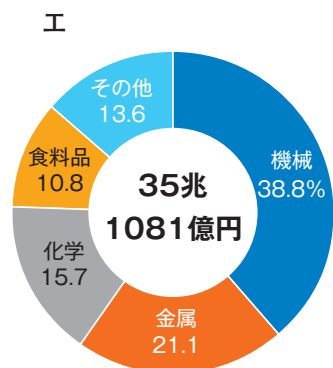
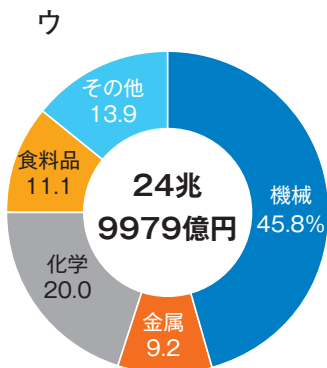
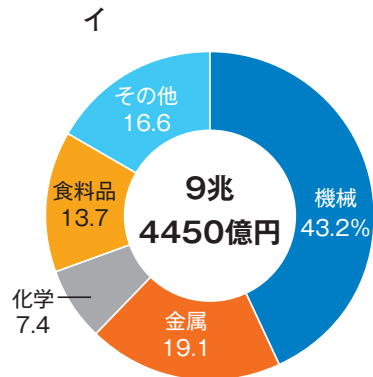
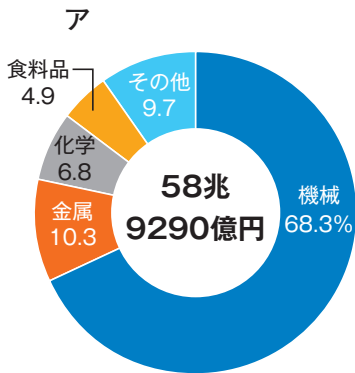


2) 下線部Cの「二つの海」とはどこを指すと考えられますか。その海の名を、それぞれ漢字で答えなさい。

問3 県民歌からは、その県の産業をうかがい知ることができます。次の愛知県、長崎県の県民歌の一節を見て、各問いに答えなさい。

愛知県：「光あつまる 中京は 港もまねく 船の数」
 長崎県：「こだまする（ ④ ）の業」

1) 愛知県は、戦前から四大工業地帯のひとつである中京工業地帯の中心的存在となってきました。次のグラフは、2021年の四大工業地帯の工業別生産額の内訳です。このうち、中京工業地帯のグラフを、ア～エから選び、その記号を答えなさい。



〔総務省・経済産業省「経済構造実態調査」より作成〕

2) (④) には、明治時代以降、長崎県でさかんな産業が入ります。あてはまる語句として正しいものを、次のア～エから選び、その記号を答えなさい。

ア 養蚕

イ 紡績

ウ 発電

エ 造船

問4 香川県では、県民歌でも「塩焼く浜はまに野に街あせに 勤労の汗玉と照る」と歌われるほど古くから塩づくりがさかんでした。そして、製塩に適した気候をいかし、中世から近代にかけて多くの塩田えんでんが見られました。このことについて、各問いに答えなさい。

1) 塩田とは、塩をつくる過程のうち、海水を太陽熱や風で蒸発させて砂に塩分を付着させる工程をおこなう場所です。これをふまえたうえで、塩田をつくるのに適していたといえる香川県の気候の特徴とくちょうを簡単に答えなさい。

2) 次のページのア～エは、それぞれ「1928年」「1969年」「1990－2000年」「現在」のいずれかの香川県屋島やしまの地図です。屋島の年表を参考にして、ア～エを年代が古い順に並べかえなさい。

江戸時代	大規模な塩づくりが始められる
1910年	第1次塩業整備事業 <small>えんぎょうせいびじぎょう</small> により屋島浜塩田 <small>やしまはま</small> が整備される
1929年	屋島ケーブル（屋島登山鉄道）が開業する
1954年	香川県民歌が制定される
1969年	屋島山上水族館 <small>やしまさんじょう</small> が開館する
1971年	塩業の整備及び近代化の促進 <small>そくしん</small> に関する臨時措置法 <small>りんじそちほう</small> により塩田が廃止される
2005年	屋島ケーブル（屋島登山鉄道）が廃止される

ア



イ



ウ



エ



問5 広島市歌には「流れとともに 伸びてきた は街の ^{いのち} 生命です」という一節があり、広島平野を流れる太田川によって運ばれてきた土砂が河口に積もった場所に、広島市街ができたことを歌っています。次の広島市街の航空写真も参考にして、 にあてはまる地形の名を、ア～エから選び、その記号を答えなさい。

【広島市街の航空写真】



ア 輪中 イ 扇状地 ウ デルタ エ 干拓地

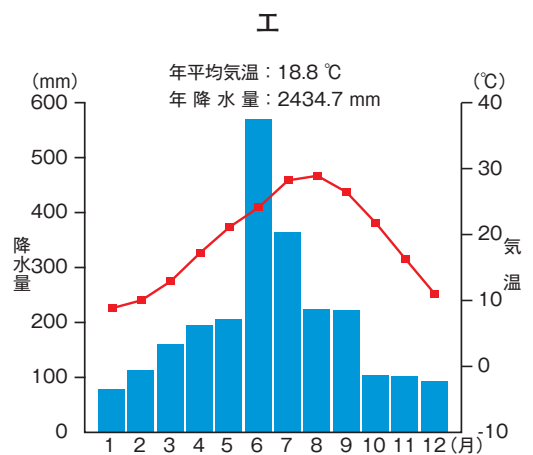
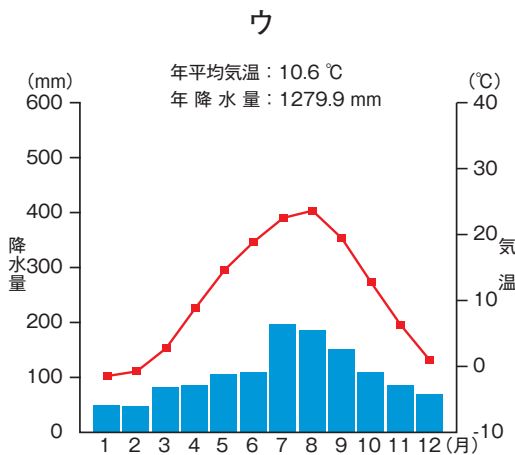
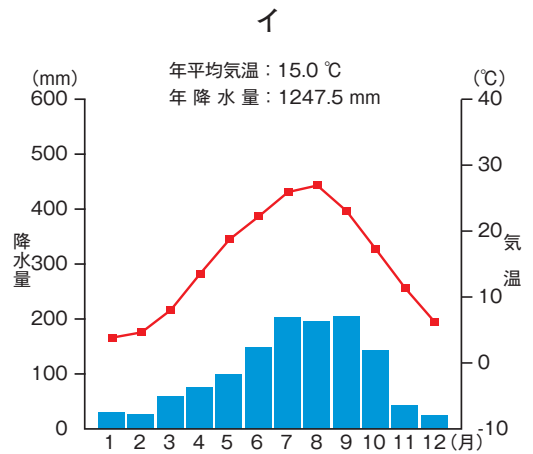
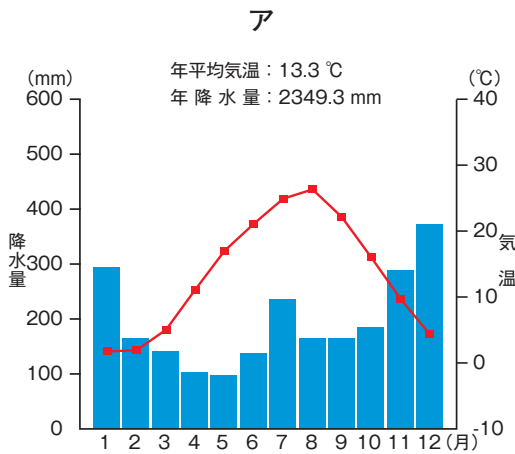
問6 以下は、日本のある市、Ⅰ市・Ⅱ市・Ⅲ市・Ⅳ市の歌の一節です。これを見て、各問いに答えなさい。

Ⅰ市：^{かみ}上^けつ毛の国^さのまほろば 花^さ咲ける 古^こき文化に 光^そ添^そう」
Ⅱ市：「みどりの地 若^{わか}やぐいぶき 北^{きた}上の流^{なが}れゆたかに」
Ⅲ市：「みなみの空に青空に きょうも火^ひをふく桜島」
Ⅳ市：「守^す門^{もん}岳^{だけ}から日本海 中^{ちゅう}越^{えつ}いやす信濃川」

1) I市の歌の「上つ毛」は、群馬県の昔の呼び名で、I市は群馬県の県庁所在地です。
I市の名を漢字で答えなさい。

2) II市は、ある県の県庁所在地で、市の歌で歌われている川によってつくられた盆地
にあります。II市の名を漢字で答えなさい。

3) 以下の雨温図ア～エは、I～IV市のものです。このうち、III市とIV市の雨温図を、
それぞれ選び、その記号を答えなさい。



[気象庁統計より作成]

II

かりたすあい 刈田寿愛さんは、地理の授業で、お友達のかみのめぐみ 神野恵さんと日本の農業について話しています。次の会話文を読んで、以下の各問いに答えなさい。

愛さん：日本で一番農業がさかんなのはどこだろう？（①）かな？

恵さん：2022年の農林水産省のデータを見てみよう。愛さんの言う通り、都道府県ごとの農業産出額を見ると、（①）がとびぬけて大きくて、1兆2919億円となっているね。

愛さん：（①）の農業産出額のうち、「畜産」は7535億円で、さらにそのうち、4660億円が「乳用牛」による産出額となっていて、（①）の農業の中心となっているね。

恵さん：（①）の次に農業産出額が大きいのが、（②）の5114億円だね。

愛さん：（②）も「畜産」がさかんで、3473億円が「畜産」だね。ただ、そのうち「乳用牛」は98億円と、（①）と比べるととても小さくて、主に食用の牛や豚ぶたや鶏とりを育てているみたいだよ。

恵さん：黒豚なんかが有名だね。（②）に広がるシラス台地が、雨水のしみこみやすい酸性の土地で農業に不向きだったから、「畜産」がさかんになったと習ったことがあるよ。

愛さん：（②）の次に農業産出額が大きいのが（③）の4409億円だね。（③）は、平らな土地が多いことや、都心部に近いことを利用して、都市の消費者向けに農産物を出荷していることが、農業産出額が大きい理由だね。

恵さん：だから花の栽培がさかんなんだ！バラの栽培が有名だよ。ね。（③）の「花き*」の産出額は163億円と、全国平均に比べて大きくなっているよ。（③）に接している埼玉県や千葉県でも、「花き」の産出額は、それぞれ160億円と198億円と大きくなっているよ。

愛さん：それぞれの都道府県が、気候や土地、立地など、それぞれの状況に合わせて、農業をおこなっていることがよくわかるね。

*花き … 観賞用の草花のこと。

問1 （①）～（③）にあてはまる都道府県名を漢字で答えなさい。なお、答えるときに、都・道・府・県まで書くこと。

問2 下線部のような農業を何といいますか。答えなさい。

Ⅲ は次のページから始まります。

Ⅲ 昔から、人びとは、他の地域の人びとと交流していました。そうした中で、もののやりとりを仲介する貨幣もつくられました。そのことをふまえ、以下の各問いに答えなさい。

問1 以下の写真A～Cについての各問いに答えなさい。



A



B



C

1) 写真Aは、昔の日本人が使用した道具です。その材料は、他の地域の人びととのもののやりとりの中で、産地から離れた場所でも見つかります。その道具の名と材料の組み合わせとして正しいものを、次のア～カから1つ選び、その記号を答えなさい。

- | | | |
|-----------|-----------|-----------|
| ア 旧石器－大理石 | イ 旧石器－黒曜石 | ウ 新石器－大理石 |
| エ 新石器－黒曜石 | オ 金属器－大理石 | カ 金属器－黒曜石 |

2) 写真Bは、これが作られた時代に生活するための道具として、いろいろなことに使われました。文様のつけ方が広い地域で共通していることから、人びとの交流があったことがわかります。その文様から写真Bは、総称して何と呼ばれますか。漢字で答えなさい。

3) 写真Cに関係すると思われる下の史料の現代語訳を読んで、(①) と (②) に入る語句の組み合わせとして正しいものを、次のア～エから1つ選び、その記号を答えなさい。

(①) の建武中元二年、倭の (②) が朝貢してきた。その使いは自分のことを大夫といった。(②) は倭の最南端にある。(①) の光武帝は (②) 王に印綬を授けた。 *一部言葉を補ったところがあります。

- ア ①－漢 ②－^{なこく}奴国 イ ①－漢 ②－^{やまたいこく}邪馬台国
ウ ①－魏 ②－奴国 エ ①－魏 ②－邪馬台国

問2 日本と中国の交流について、

- 1) 中臣鎌足が中大兄皇子とともに蘇我入鹿をうって、中国から帰国した留学生や僧^{そう}とともに、天皇を中心とした政治のしくみをつくる改革をはじめました。この改革を何と呼びますか。
- 2) その後、中国を見習って天皇を中心とした律と令による政治の土台づくりがおこなわれました。その土台づくりからそれが完成した時代に起こったことについて述べた文ア～エを、年代の古い順に正しく並べかえなさい。

- ア 広い道路がごぼんの目のように通された平城京がつくられた。
イ 大海人皇子が、壬申の乱に勝利して天武天皇として即位^{そくい}した。
ウ 日本は、唐・^{しらぎ}新羅の連合軍と朝鮮半島で争い、敗れた。
エ 仏教の力を借りて社会の不安をはずめるため、都に大仏がつくられた。

問3 下のある史料の現代語訳を読んで、各問いに答えなさい。

右のことは、^{つつし}謹んで私が、去年の三月に中国にいる僧の^{ちゆうかん}中^{おうとつ} 権^{たく}が商人の王^{すいたい} 訥^{すいたい}らに託して届いた記録をみたところ、唐の^{すいたい}衰退についてくわしく書かれていたため申し上げるしだいです。……私がこれまでの記録を調べてみると、たびたびの遣唐使の中には海で^{そうなん}遭難したり、^{かいぞく}海賊のために命を落とした者がいました。……

- 1) 史料中の「私」とは誰ですか。その姓名を漢字で答えなさい。
- 2) この史料は、中国への遣唐使の派遣^{はけん}を停止した方がいい^{じょうきょう} 状況^{じょうきょう}を述べています。ここからわかる停止の理由を説明しなさい。

問4 中世の日本では、中国からもたらされた貨幣が使われていました。それについて、各問いに答えなさい。

- 1) 右の貨幣は平安時代の末期から鎌倉時代にかけて、日本に大量に入ってきて、日本で貨幣として使われました。そのころの中国の王朝の名をとって、 錢と呼ばれました。 に入る中国の王朝名とは何ですか、次のア～エから1つ選び、その記号を答えなさい。



ア 金 イ 宋 ウ 明 エ 清

- 2) 中国からもたらされた貨幣が使われていたころの日本のようすについて述べた文ア～エを、年代の古い順に正しく並べかえなさい。

ア 2度にわたる元軍との戦いで勝利したものの、幕府に仕える武士は、新たな領地を得られず、幕府との関係が不安定になった。

イ 都での乱に参加する守護の留守をあずかった守護代がその実権を奪^{うば}うなど、立場の下の者が上の者を實力でたおす下剋上が起こった。

ウ 幕府と朝廷の対立が深まるなかで、朝廷が執権の打倒^{だとう}を命じたことに対し、幕府軍が京都を攻める乱^せが起こった。

エ 朝廷の実権をとりもどすための幕府を倒^{たお}す計画は失敗したが、その後、島流しになった天皇は再起し、京都にもどり、建武の新政と呼ばれる政治をおこなった。

Ⅳ は次のページから始まります。

Ⅳ かりたすあい 刈田寿愛さんは、カリタスのある川崎市が昨年（2024年）で誕生から100周年を迎えたことを知り、川崎市の歴史について調べてみることにしました。以下の各問いに答えなさい。

問1 次の絵に関する先生と愛さんの会話文を読んで、(①)・(②)にあてはまる語句の正しい組み合わせをア～カから1つ選び、その記号を答えなさい。



*絵の一部を加工しています。

愛さん：先生、川崎はもともとしゆくぼまち宿場町だったそうですね。川崎宿について調べていたら、こんな絵を見つけました。

先生：そうですね。江戸幕府が各地に街道を整備し、街道沿いには宿場町ができました。現在の川崎駅のあたりには(①)が通っていて、この版画はその川崎宿周辺えがのようすを描いたものです。誰の作品か知っていますか？

愛さん：(②)だと思います。

先生：その通り！ 旅人たちが船で多摩川を渡るようすがわかりますね。川崎宿には多くのはたご旅籠が立ち並び、ならちやめし奈良茶飯というご飯が名物だったそうですよ。

愛さん：なるほど。私も奈良茶飯、食べてみたいです！

- | | | | | | |
|---|--------|--------|---|--------|--------|
| ア | ①－中山道 | ②－葛飾北斎 | イ | ①－中山道 | ②－歌川広重 |
| ウ | ①－東海道 | ②－葛飾北斎 | エ | ①－東海道 | ②－歌川広重 |
| オ | ①－甲州街道 | ②－葛飾北斎 | カ | ①－甲州街道 | ②－歌川広重 |

問2 愛さんが川崎宿についてさらに調べていると、江戸時代に川崎宿で活躍した人物のことを知りました。次の愛さんのメモを読んで、各問いに答えなさい。

田中 休愚は、川崎宿の名主（村の役人）を務めた人物で、川崎宿の財政を立て直すなどの活躍をしました。また、休愚は自分の知識や経験を生かして、『民間省要』という意見書を書いて幕府に提出しました。この意見書は、将軍の徳川吉宗に献上され、吉宗のおこなった にも影響を与えたと言われています。 では「定免法」という年貢率の決定方法が採用されますが、休愚も農民の立場から『民間省要』の中で定免法の採用を訴えています。それまでは、毎年米の収穫量に合わせて年貢を決定する「検見法」という方法で決めていました。一方、定免法は過去3～10年の年貢の平均値を基準にして、毎年一定の年貢を納めさせる方法であり、これは幕府にとっても農民にとっても、良い点がありました。ただし、農民にとっては悪い点もありました。

1) 文章中の にあてはまる語句を、次のア～エから1つ選び、その記号を答えなさい。

ア 寛政の改革 イ 享保の改革 ウ 田沼意次の改革 エ 天保の改革

2) 文章中の下線部について、農民にとって良い点であると考えられるものを、次のア～エからすべて選び、その記号を答えなさい。

ア 納めるべき年貢が決まっているため、将来の生活の見通しを立てやすくなる。

イ 納めるべき年貢が大きく減り、負担が軽くなる。

ウ 米が不作であった場合は、納めるべき年貢を減らしてもらえる。

エ 米を多く収穫できた時には自分たちの収入が増えるため、がんばって働く意欲が生まれる。

問3 愛さんは調べていくなかで、長尾村（現在の川崎市多摩区・宮前区付近）で暮らしていた農民の鈴木藤助という人物が書いた日記を見つけました。次の文章は、日記の一部を現代の言葉に書き改めたものです。この文章を読んで、各問いに答えなさい。

嘉永六年六月四日 外国船が来た話を聞いた。浦賀から報告があり、船が四隻来たというのである。

嘉永六年六月九日 大谷の兄と囲碁を打ちながら、外国船の話など雑談をした。

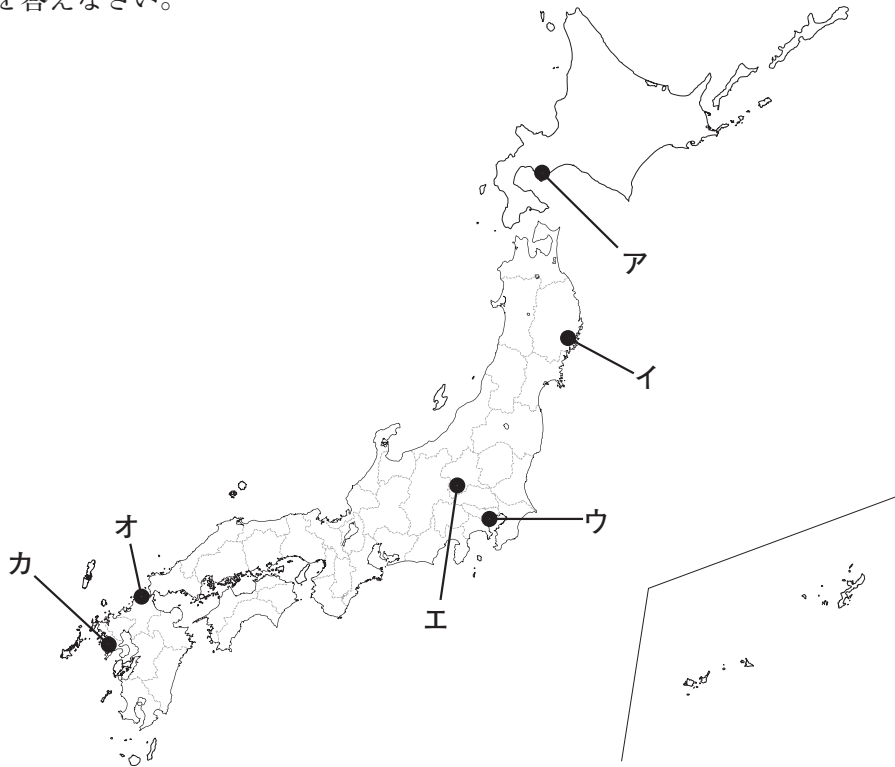
嘉永六年六月十日 大丸の源太郎が江戸から帰る途中に、外国船の話を聞いた。老中の阿部正弘様をはじめ、細川様、南部様、毛利様ほか11人の大名が浦賀へ向けて出発されたらしい。

* 日記中の「嘉永」とは、1848年から1854年までの期間に用いられた元号です。

- 1) この日記に書かれている「外国船」は、どの国から来た船であると考えられますか。その国名を答えなさい。
- 2) この日記に書かれている出来事は、その後の日本を大きく変えました。この出来事よりも後に起こった出来事として明らかに誤っているものを、次のア～エから1つ選び、その記号を答えなさい。

- ア 下田・箱館を開港した。
- イ 桜田門外の変で、大老の井伊直弼が暗殺された。
- ウ 異国船打払令を出して、外国船の接近を取りしまった。
- エ 長州藩が外国船を攻撃するが、反撃を受けた。

問4 愛さんは、川崎市が工業都市として発展してきたことを知り、日本の工業化の歴史を調べてみました。次の地図は、明治時代に開業した日本の主な工場の位置をまとめたものです。地図中のア～カのうち、官営八幡製鉄所の位置を示したものを選び、その記号を答えなさい。



問5 愛さんはカリタスのある中野島を散歩している途中で、次の写真の石碑を見つめました。この石碑には大きな字で「明治三十七八年戦役記念碑」と書かれています。次の文章は、石碑の近くにあった解説文の一部です。文章中の にあてはまる語句を漢字で答えなさい。



この大きな記念碑は明治三十七年（1904）～三十八年の の為ために中野島から出征しゅっせいした、戦没者せんぼつしゃ一名を除く兵士の無事帰国を記念して建てられたものです。碑の裏側には従軍者十七名の氏名が刻まれています。戦争の翌年、明治三十九年十月に建てられました。
 は多くの犠牲ぎせいを払って戦われた激戦で、戦没者れいの霊まつを祀る慰霊碑いれいひや忠魂碑ちゅうこんひが各地で多く見られますが、中野島の場合は無事生還せいかんした兵士の名を刻んで「記念碑」としています。

問6 次の文章は、今から100年前の社会について愛さんがまとめたメモです。文章中の下線部に関する次の文ア～エのうち、明らかに誤って述べているものを1つ選び、その記号を答えなさい。

昨年（2024年）は川崎市が誕生してからちょうど100周年だそうです。そこで、川崎市が生まれたころはどんな時代だったのか調べてみました。今から100年前の1924年には、第二次護憲運動が起こって加藤高明内閣が成立します。加藤高明内閣は普通選挙法を制定しました。

- ア 普通選挙法より前に、治安維持法を制定して社会主義を取りしまった。
- イ 普通選挙法の制定以前の選挙では、ある金額以上の直接国税を納めた人だけが投票できた。
- ウ 普通選挙法により、満25歳以上のすべての国民に選挙権が与えられた。
- エ 普通選挙法により、有権者の人数は約4倍に増えた。

問7 愛さんは、川崎市が終戦後から高度経済成長期にかけて大きく発展したことを知り、この期間に起こった重要な出来事をまとめました。次の表中のア～オは、この期間の川崎市の出来事と、それと同じ年に起こった日本に関する重要な出来事です。ア～オの出来事を、年代の古い順に正しく並べかえなさい。

	川崎市の出来事	日本に関する重要な出来事
ア	川崎市営バスが初めて運行される。	朝鮮戦争が起こる。
イ	川崎市が政令指定都市となる。	沖縄が日本に返還される。
ウ	川崎市長が初めての市民による選挙によって選出される。	日本国憲法が公布される。
エ	横浜港の一部であった川崎港が独立し、川崎市が管理者となる。	サンフランシスコ平和条約と日米安全保障条約が結ばれる。
オ	よみうりランドが開園する。	東海道新幹線が開業する。また、東京オリンピックが開催される。

問8 愛さんは昔の川崎市に関する本を読んでいるなかで、川崎市の歌である「川崎市歌」の歌詞が、高度経済成長の最中である1969年に書きかえられたことを知りました。次の2つの歌詞は、書きかえられる前と後の「川崎市歌」の歌詞です。歌詞の内容が問題視され、「もとの歌詞」の下線部が書きかえられた背景には、当時の時代状況がありました。なぜ下線部が書きかえられたのでしょうか。あなたの考えを説明しなさい。

もとの歌詞	新しい歌詞
<p>三 <small>おおふね</small> 巨船<small>ふとう</small>つなぐ埠頭の影は 太平洋に続く波の穂 <u>黒くわき立つ煙のほのおは</u> <u>空に記す日本</u> かざせ我らが強き理想を</p>	<p>三 巨船つなぐ埠頭の影は 太平洋に続く波の穂 あせ 汗と力に世界の資源を きず いしづえ 集め築く基礎 かがや 今ぞ輝く大川崎市</p>

*現在の「川崎市歌」は、三番の終わりが「今ぞ輝くわが川崎市」となっています。

V 中学生の刈田寿愛^{かりたすあい}さんは、お父さんと政治や経済について話し合いました。その会話文を読んで、以下の各問いに答えなさい。

愛さん：今日学校で、日本の国会について勉強したよ。国会は、 よね？

お父さん：そうだね。私は衆議院議員として長年国会で働いてきたけど、選挙で当選するのに苦労したな。

愛さん：どうすれば衆議院議員に立候補できるの？

お父さん：

問1 にあてはまる文として明らかに誤っているものを、次のア～オから2つ選び、その記号を答えなさい。

- ア 最高裁判所の長官を指名している
- イ 予算の議決や条約の承認をおこなっている
- ウ 国権の最高機関で唯一^{ゆいいつ}の立法機関といわれている
- エ 天皇の国事行為に対する助言と承認をおこなっている
- オ 裁判官としてふさわしくない人を裁く弾劾裁判所を置いている

問2 にあてはまる文として正しいものを、次のア～エから1つ選び、その記号を答えなさい。

- ア 25歳^{さい}になると立候補できるよ。市区町村長に立候補できる年齢^{ねんれい}と同じだね。
- イ 25歳になると立候補できるよ。都道府県知事に立候補できる年齢と同じだね。
- ウ 30歳になると立候補できるよ。市区町村長に立候補できる年齢と同じだね。
- エ 30歳になると立候補できるよ。都道府県知事に立候補できる年齢と同じだね。

お父さん：2024年7月2日の外国為替相場*は1ドル = 161円だけど、約3ヵ月後の10月18日は1ドル = 143円になっていたね。

愛さん：つまり10月18日は、3ヵ月前に比べるとドルに対して Y ということだよな？

お父さん：そうだね。A 外国為替相場の変化は、私たちの生活や日本の経済に大きな影響をあたえるよ。

*外国為替相場 … ある国のお金と外国のお金を交換するときの比率。

問3 Y にあてはまる文として正しいものを、次のア～エから1つ選び、その記号を答えなさい。

ア 円安で、円の価値が低い

イ 円安で、円の価値が高い

ウ 円高で、円の価値が低い

エ 円高で、円の価値が高い

問4 下線部Aについての文として正しいものを、次のア～エから1つ選び、その記号を答えなさい。

ア 円安になると、日本の自動車をアメリカに輸出したときに現地で売れにくくなる。

イ 円安になると、日本人が海外旅行先のアメリカでより安く買い物をすることができる。

ウ 円高になると、日本がアメリカから牛肉を輸入したときに安く買える。

エ 円高になると、日本に来たアメリカ人観光客がより安い値段で東京に宿泊することができる。

愛さん：今日学校で、**B** 自分の日常生活と日本国憲法の条文にどのような関わりがあるかを考え、関わりのあるところを写真で撮ろうという宿題が出たよ。

お父さん：探してみるといろいろとありそうだね。どんなところを写真で撮ろうとしているの？

愛さん：私は本が好きだから、本をテーマに考えてみようかな。著者は、本を通して自分の考えや思いを伝えることができるけど、これは憲法第21条の「集会、結社及び言論、出版その他一切の **Z** の自由は、これを保障する。」というところと関わりがあるよ。

問5 下線部**B**について、私たちの日常生活と日本国憲法の条文との関係について述べた文として明らかに誤っているものを、次のア～エから1つ選び、その記号を答えなさい。

ア 自分の住みたいところに住むことができるのは、自由権と関係している。

イ 生活保護の受給をめぐる裁判についてのニュースは、社会権と関係している。

ウ 最高裁判所長官の国民審査は、参政権と関係している。

エ 中学生の働きかけによって市の条例が新たにできたのは、平等権と関係している。

問6 **Z** にあてはまる語句を漢字で答えなさい。

愛さん：今日、学校でおこなわれていた校内の募金活動に参加し、C 難民を支援する国連の機関に寄付したよ。

お父さん：小さなことであっても、自分にできることを考えて行動していてえらいね。世界には、D 人口問題とか環境問題とかいろいろな課題があるから、この夏休みに調べてみるといいよ。

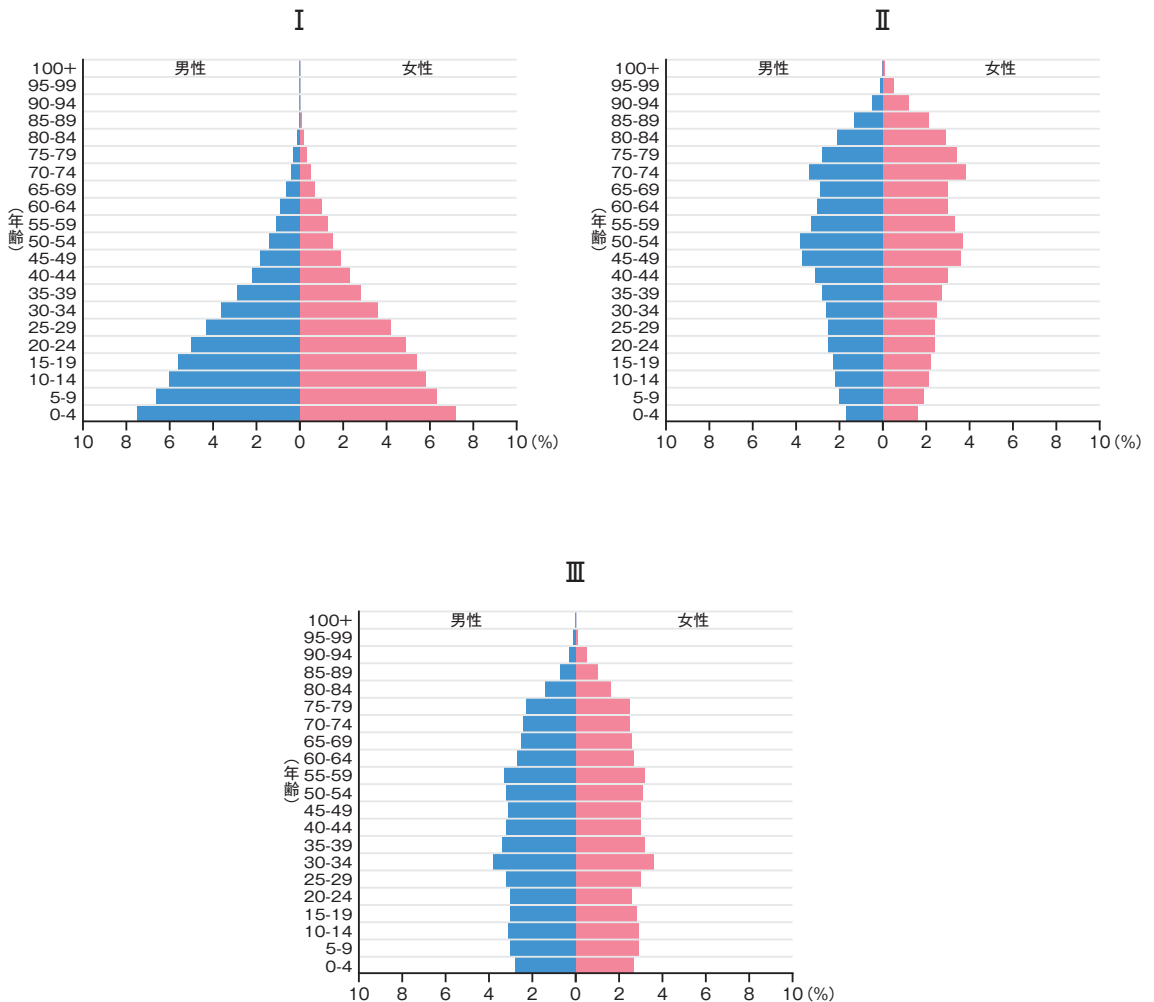
問7 下線部Cの略称を、次のア～エから1つ選び、その記号を答えなさい。

ア WHO イ UNHCR ウ UNICEF エ UNESCO

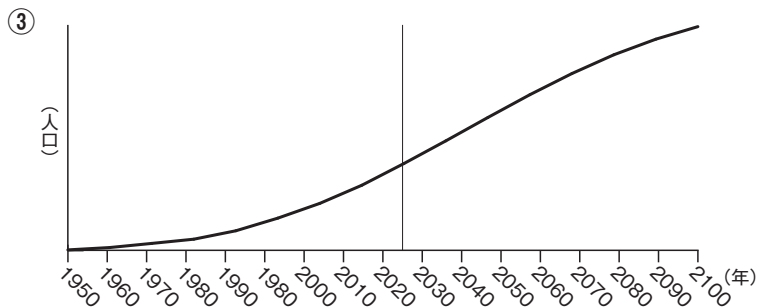
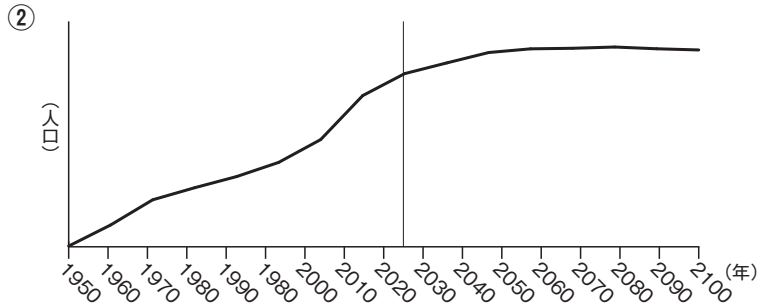
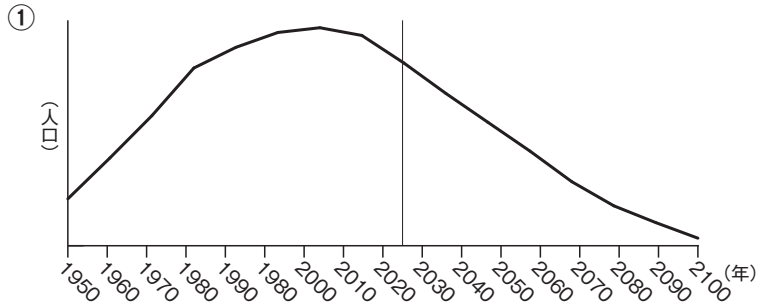
問8 下線部Dについて、愛さんは夏休みに本やウェブサイトを使い、日本・スウェーデン・エチオピアの人口について調べたことをまとめました。次のページの図Ⅰ～Ⅲは、3つの国の男女の人口割合を年齢ごとに示したもので、図①～③は、年ごとの人口数（2025年以降は推計）を示しています。愛さんのメモを参考にして、日本・スウェーデン・エチオピアを示した図の組み合わせとして正しいものを、ア～カから1つ選び、その記号を答えなさい。

愛さんのメモ

- ・日本は少子高齢化が進んでいる国で、人口が減少していくと考えられる。
- ・スウェーデンは移民の受け入れに積極的な国で、子育て支援も充実しているため、今後も人口が維持されると思われる。
- ・エチオピアは若者の数がとても多い国で、今後も人口が増加していくと思われる。



[PopulationPyramid.net より作成]



[PopulationPyramid.net より作成]

- | | | | |
|---|------------|---------------|----------------|
| ア | 日本 — II・① | エチオピア — I・③ | スウェーデン — III・② |
| イ | 日本 — II・① | エチオピア — III・② | スウェーデン — I・③ |
| ウ | 日本 — II・② | エチオピア — I・① | スウェーデン — III・③ |
| エ | 日本 — III・① | エチオピア — I・③ | スウェーデン — II・② |
| オ | 日本 — III・① | エチオピア — II・② | スウェーデン — I・③ |
| カ | 日本 — III・② | エチオピア — I・① | スウェーデン — II・③ |

 *
 *
 *
 *
 *
 *
 *

社会の問題はこれで終わりです。

